

**Часть А**

К каждому заданию части А дано четыре ответа, из которых только один верный. При выполнении заданий части А в бланке ответов под номером выполняемого вами задания (А1 – А15) поставьте цифру в клеточку, которая соответствует цифре выбранного вами ответа.

**А1. Наименьшую площадь имеет материк:**

- 1) Северная Америка      2) Австралия      3) Африка      4) Евразия

**А2. Глубину Средиземного моря определяют по карте:**

- 1) экономической      2) политической      3) климатической      4) физической

**А3. Какая из**

**обозначенных на карте мира точек имеет географические координаты 5° с.ш. и 115° з.д.?**

- 1) А    2) В    3) С    4) D

**А4. Земная кора имеет наименьшую толщину:**

- 1) на Западно-Сибирской равнине  
2) в Гималаях  
3) на дне океана  
4) на Амазонской низменности

**А5. Самая высокая вероятность сильных землетрясений существует на территории:**

- 1) полуострова Камчатка      2) острова Великобритания  
3) Скандинавского полуострова      4) Канадского Арктического архипелага

**А6. Высокая температура и высокая влажность в течение всего года характерны для воздушных масс:**

- 1) арктических    2) умеренных    3) тропических    4) экваториальных

**А7. Постоянно дующие ветры это:**

- 1) муссоны    2) пассаты    3) бриз    4) суховей

**А8. Климатический пояс, в котором в течение года происходит смена тропических и экваториальных воздушных масс, называется:**

- 1) экваториальным    2) тропическим    3) субтропическим    4) субэкваториальным

**А9. По климатической диаграмме определите, в каком месяце выпадает наименьшее количество осадков:**

- 1) в январе    2) в марте    3) в июле    4) в ноябре

**А10. Тёплым течением является:**

- 1) Сомалийское    2) Гольфстрим    3) Калифорнийское    4) Перуанское

**А11. С запада Северную Америку омывает океан**

- 1) Индийский    2) Тихий    3) Атлантический    4) Северный Ледовитый

**А12. Крайней восточной точкой материка Евразия является мыс:**

- 1) Дежнёва    2) Челюскин    3) Рока    4) Пиай

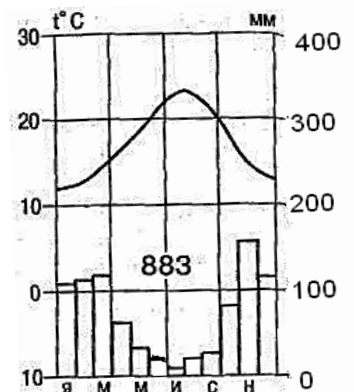
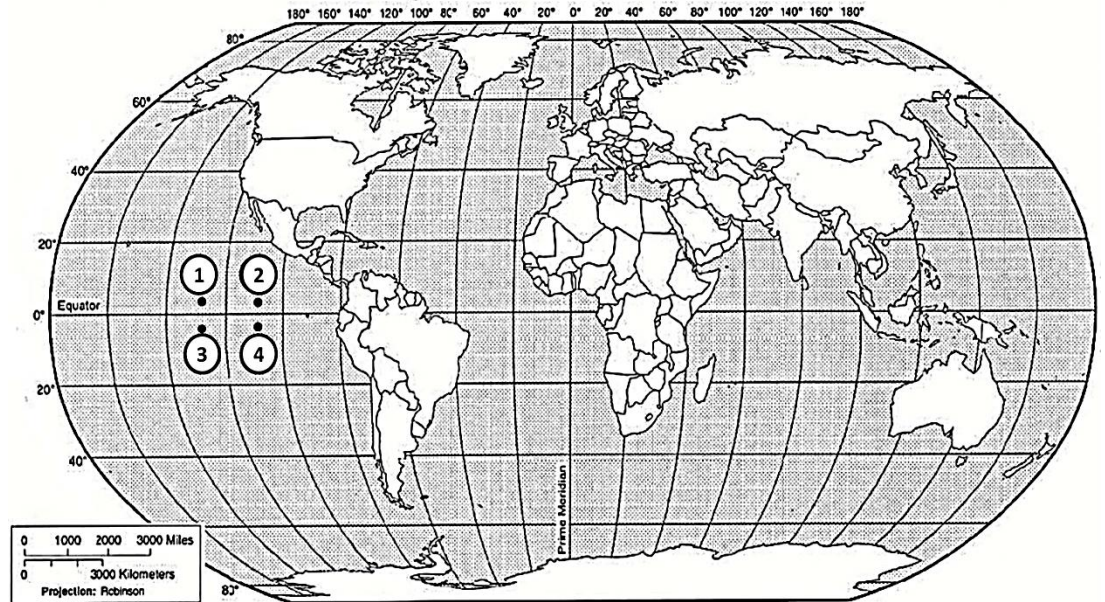
**А13. В Австралии обитают**

- 1) леопард, горилла, окапи    2) ехидна, утконос, кенгуру  
3) пума, ягуар, анаконда    4) опоссум, овцебык, скунс

**А14. Равнинами Евразии являются:**

- 1) Миссисипская, Восточно-Европейская    2) Восточно-Европейская, Великая Китайская  
3) Великая Китайская, Ла-Платская    4) Ла-Платская, Индо-Гангская

**А15. В Северной Америке мхи, лишайники, кустарнички, карликовые берёзы, олени карibu – характерные представители природной зоны:**



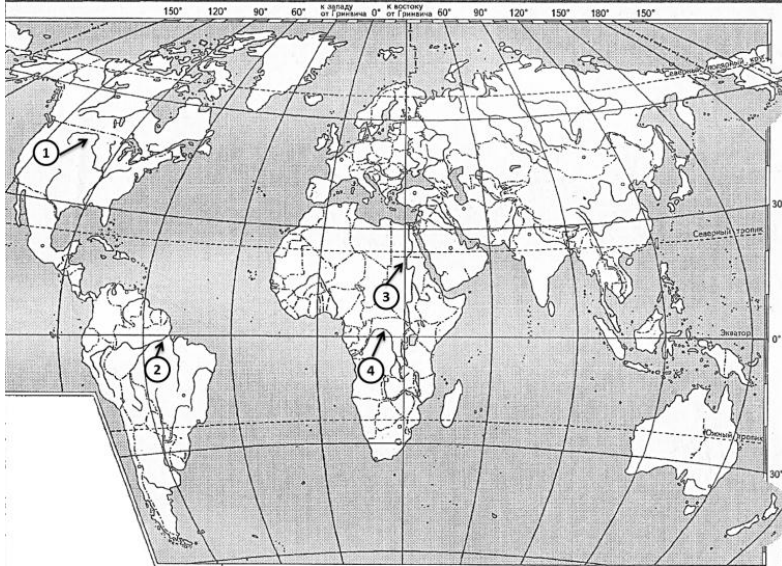
- 1) тундры    2) тайги    3) широколиственных лесов    4) смешанных лесов

**Часть В**

вариант

Ответом к заданиям части В является набор цифр, которые следует записать в бланк справа от номера соответствующего задания, начиная с первой клеточки. Каждую цифру пишите в отдельной клеточке.

**В1. Установите какой цифрой (на карте 1) обозначены реки перечисленные ниже**  
**НАЗВАНИЯ РЕК**

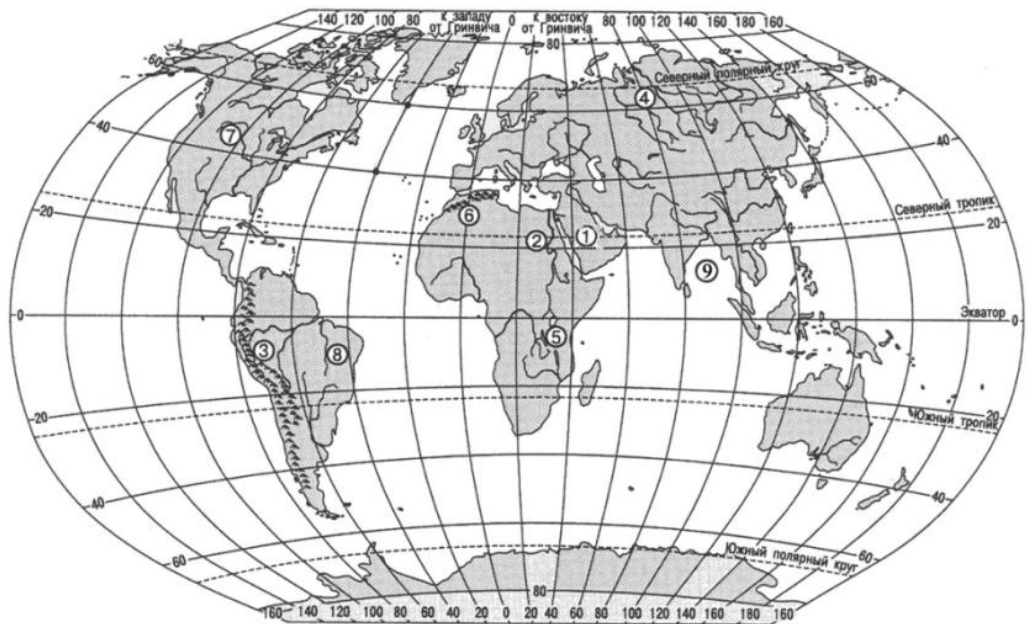


- A) Нил  
B) Амазонка  
C) Конго  
D) Миссисипи

**В2. Установите какой цифрой (на карте 2) обозначены объекты перечисленные ниже.**  
**ГЕОГРАФИЧЕСКИЕ ОБЪЕКТЫ**

- A) горы Атлас  
B) Бразильское плоскогорье  
C) Аравийский полуостров  
D) горы Анды

*карта 1*



*карта 2*

**В3. Выберите три верных утверждения.**

- 1) Самый многочисленный народ мира – китайцы.
- 2) Испания является островным государством.
- 3) Большой Барьерный риф протянулся вдоль северо-восточного побережья Австралии.
- 4) Японцы – самый низкорослый народ, живущий в Африке.
- 5) Крупнейшее государство Южной Америки – Бразилия.
- 6) Россия – самая маленькая по площади страна мира.

## Вариант 2

### Часть А

Часть А содержит 15 заданий с выбором ответа. К каждому заданию даётся четыре варианта ответа, только один из которых верный. При выполнении заданий этой части в бланке ответов под номером выполняемого вами задания (А1–А15) поставьте цифру в клеточке, которая соответствует цифре выбранного вами ответа.

#### А1. Какой материк Земли самый сухой?

- 1) Евразия 2) Африка 3) Австралия 4) Южная Америка

#### А2. Какие горы расположены на материке Африка:

- 1) Пиренеи, Драконовы, Гималаи; 2) Атлас, Капские, Драконовы;  
3) Альпы, Капские, Анды. 4) Атлас, Карпаты, Кордильеры

#### А3. Относительно устойчивые и выровненные участки земной коры, лежащие в основании современных материков, - это:

- 1) материковые отмели 2) платформы  
3) сейсмические пояса 4) острова

#### А4. Какая из перечисленных территорий расположена в пределах сейсмического пояса?

- 1) Японские острова 2) острова Новая Земля  
3) полуостров Таймыр 4) полуостров Ямал

#### А5. Самый низкий от поверхности Земли слой атмосферы – это:

- 1) Тропосфера; 2) Стратосфера;  
3) Ионосфера. 4) Верхние слои

#### А6. Какой буквой на карте (карта 1) обозначен вулкан Килиманджаро?

- 1) А 2) Б 3) В 4) Г

#### А7. Для какого типа климата умеренного климатического пояса характерны самые низкие зимние температуры?

- 1) морского 2) умеренно - континентального  
3) резко - континентального 4) муссонного

#### А8. Какое из перечисленных морских течений действует в Тихом океане? карта 1

- 1) Гольфстрим 2) Бразильское 3) Гвинейское 4) Куроисио.

#### А9. Какая амплитуда колебаний температур (на рис. 1) более верная?

- 1) 5° 2) 10° 3) 15° 4) 20°

#### А10. Укажите ошибку в сочетании «материк - животное».

- 1) Африка — гепард 2) Австралия — коала  
3) Южная Америка – пума 4) Евразия — скунс

#### А11. В саваннах Африки растут

- 1) сейба, саксаул, гевея 2) зонтичная акация, баобаб, молочай  
3) лиственница, полынь, ковыль 4) эвкалипт, пихта, бамбук

#### А12. Какие координаты имеет самая восточная точка Африки?

- 1) 16° ю.ш.; 3° в.д. 2) 10° с.ш.; 51° в.д.  
3) 51° с.ш.; 11° в.д. 4) 16° с.ш.; 3° з.д.

#### А13. По карте плотности населения определите, какая из названных территорий заселена больше?

- 1) Европа; 2) Южная Америка;  
3) Австралия; 4) север Африки.

#### А14. Укажите самое большое по площади озеро Африки?

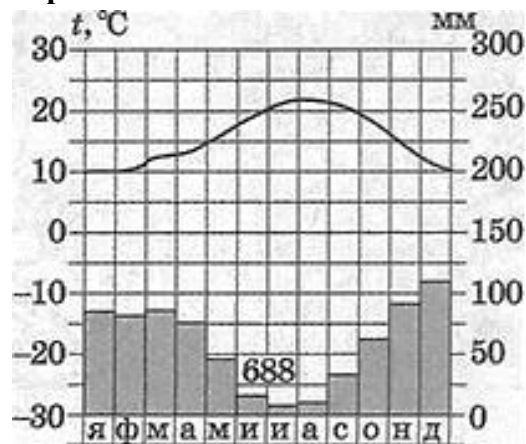
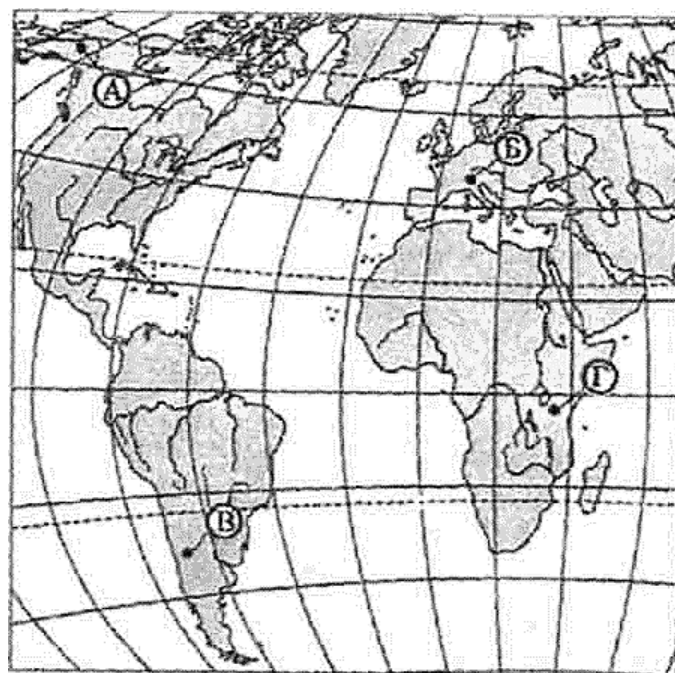


рис.1



- 1) Чад; 2) Ньяса; 3) Виктория 3) Каспийское

**A15. Определите, водами, каких заливов омывается материк Северная Америка:**

- 1) Гудзонов, Мексиканский; 2) Гвинейский, Бенгальский;  
3) Мексиканский, Бискайский 4) Гудзонов, Персидский

**Часть В**

Вариант 2

Ответом к заданиям части В является набор цифр, которые следует записать в бланк справа от номера соответствующего задания, начиная с первой клеточки. Каждую цифру пишите в отдельной клеточке.

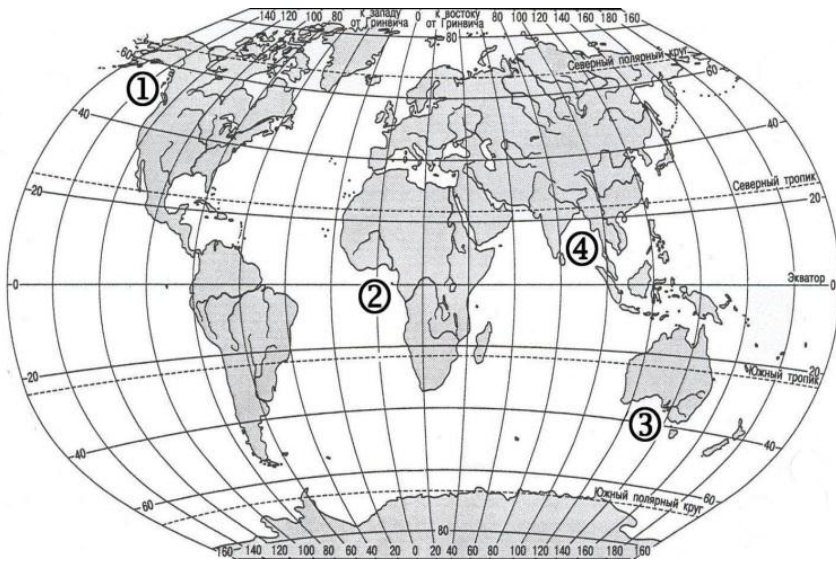
**В1. Установите соответствие между строением земной коры и рельефом.**

**ГОРЫ**

- 1) Гималаи  
2) Кордильеры  
3) Капские  
4) Аппалачи

**ВОЗРАСТ СКЛАДЧАТОСТИ**

- A. Мезозойский  
B. Кайнозойский  
C. Герцинский  
D. Байкальский



(карта 2)

**В3. С помощью карты (рис.2) сравните среднегодовое количество осадков в точках, обозначенных на карте цифрами 1, 2, 3, 4. Расположите эти точки в порядке увеличения количества осадков, выпадающих в них.**

Запишите в таблицу получившуюся последовательность цифр.

**В2. Установите соответствие между заливом и его расположением на карте (карта2), обозначенным цифрой.**

**ЗАЛИВ**

- A) Гвинейский  
B) Бенгальский  
C) Аляска  
D) Большой Австралийский залив

Запишите в таблицу цифры, соответствующие выбранным ответам.

